



« به نام خالق خوبی ها » تنظیم: آموزگاران پایه‌ی دوم

اسم من است. در کلاس دبستان درس می‌خوانم.

۱) نازنینم، با کارت‌های اعداد ۳ و ۵ و ۲ هر چه می‌توانی عدد سه رقمی بنویس.

تاریخ: ۹۴، ۱۰، ۹

.....

* حالا از بین عددهایی که نوشتی الف (بیشترین عدد و کمترین عدد را بنویس.

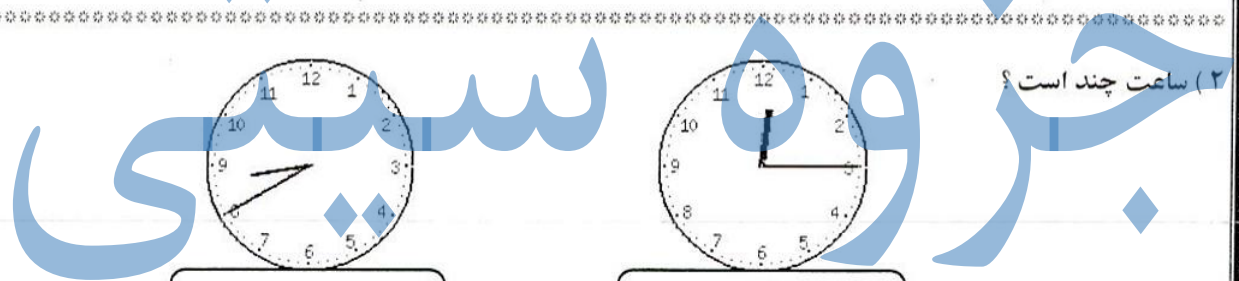
بیشترین عدد: با حروف: کمترین عدد: با حروف:

ب) رقم‌های یکان و دهگان بیشترین و کمترین عدد را حذف کن و یک تفریق برای آن‌ها بنویس.

بیشترین عدد با حذف رقم یکان و دهگان:

کمترین عدد با حذف رقم یکان و دهگان:

ج) عدد‌هایی را بنویس که حاصل جمع رقم‌های دهگان و صدگانش برابر با رقم یکان آن باشد.



۲) ساعت چند است؟

.....

.....

* نیم ساعت بعد از ساعت ۲:۲۰ ساعت چند می‌شود؟

* یک ساعت و ربع بعد از ساعت ۱:۴۵ ساعت چند است؟

۳) جمع و تفریق کن. $20 + 5 + 10 + 20 + 5 + 10 + 6 = \dots$ $6 + 9 = \dots$ $2 - 8 = \dots$ $7 + 5 = \dots$

$700 - 300 = \dots$ $80 - 30 = \dots$ $\frac{8}{3}$ $\frac{2}{9}$

$20 + 40 = \dots$ $600 + 200 = \dots$

.....

.....

۴) نسترن در کیفش چهار سکه‌ی ۱۰۰ ریالی، دو سکه‌ی ۱۰ ریالی و هشت سکه‌ی ۱ ریالی دارد. او چند ریال پول دارد؟

با رقم: با حروف:

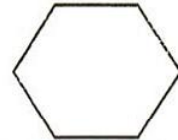

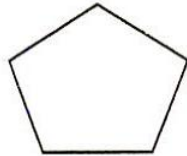
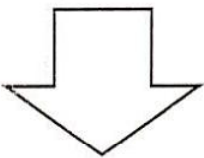
۵) الگوهای عددی را ادامه بده.

۳۶ - ۴۲ - ۴۸ - - - -

۱۸ - ۱۹ - ۲۱ - ۲۴ - - -

۳۶۵ - ۳۷۰ - ۳۷۵ - - -

۶) با یک برش شکل های زیر را به دو قسمت مساوی تقسیم کن.



۷) عدد داخل دایره به چه عددی نزدیک تر است؟ اعداد مربوطه را بنویس و مربع درست را رنگ بزن

۳۶۰ ← (۳۶۷) →

← (۵۸۱) →


۸) رضا به پدرش در کارگاه نجاری کمک می کند. او در ماه گذشته ۱۸ میز ساخت و پدرش ۲۵ میز آنها چند میز ساخته اند؟

جزوه سیپی

اگر ۲۷ تایی آنها را بفروشند چند میز برایشان باقی می ماند؟

.....

۹) یک عدد سه رقمی بنویس که ۵ صدتایی و ۷ ده تایی داشته باشد. (در جدول)

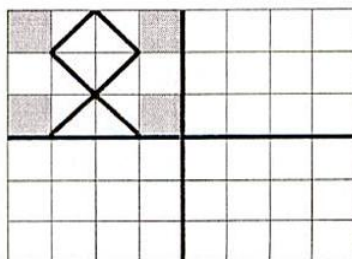


بارقم باحروف

حالا این عدد را در مربع قرار بده. ده تا ده تا بشمارو جاهای خالی را پر کن



۱۰) کاشی کاری را طوری کامل کن که ۴ قسمت شکل کاملاً مثل هم باشند.



نظر معلم :

